



AValiação DIAGNÓSTICA



ESCOLA: _____

NOME: _____

DATA: _____ PROFESSORA: _____

AVALIAÇÃO DIAGNÓSTICA DE LÍNGUA PORTUGUESA

NOITE DE SÃO JOÃO

SÃO JOÃO BATE À PORTA
JUNTO A ELE VEM A FESTA
BUSCAPÉ PRA TODO LADO
GENTE LINDA E MUITA DANÇA!



RALA O COCO PRA COCADA
COLOCA O MILHO NO ESPETO
CÉU DE NOITE ESTRELADA
PRA BALANÇAR O ESQUELETO

SE DESEJAR SER MEU COMPADRE
A FOGUEIRA, VAMOS PULAR
TUDO UMA GRANDE BRINCADEIRA
SE ACHEGUE ENTÃO, VAMOS BRINCAR!



Isabel Cristina Silveira Soares

1) QUAL É O TÍTULO DO POEMA?

2) QUEM É O AUTOR (A)?

3) QUE OUTRO TÍTULO VOCÊ DARIA AO POEMA?

4) DE ACORDO COM O POEMA, O QUE TEM NA FESTANÇA DE SÃO JOÃO?

5) O QUE SIGNIFICA A EXPRESSÃO “BALANÇA O ESQUELETO”?

6) CIRCULE NO POEMA AS PALAVRAS QUE RIMAM. EM SEGUIDA COPIE OS PARES NO QUADRO ABAIXO.

7) AGORA, RETIRE DO POEMA:

UM SUBSTANTIVO COMUM-

UM SUBSTANTIVO PRÓPRIO-

UM ADJETIVO -

UM VERBO-

8) SEPARE AS SÍLABAS DE:

FESTANÇA-

JOÃO-

BUSCAPÉ-

ESQUELETO-

ESCOLA: _____

NOME: _____

DATA: _____ PROFESSORA: _____

AVALIAÇÃO DIAGNÓSTICA DE MATEMÁTICA

1) RESOLVA AS SITUAÇÕES-PROBLEMA.



A) JULIA COMPROU 2 CACHORROS-QUENTE, 1 ESPETINHO E 1 MAÇA DO AMOR. QUANTOS JULIA GASTOU?

B) JULIA PAGOU COM UMA NOTA DE R\$ 50,00. QUANTOS ELA RECEBEU DE TROCO?

C) A MÃE DE JULIA QUERIA COMPRAR 2 BOLOS, MAS SÓ TINHA UMA NOTA DE R\$ 20,00. QUANTOS FALTARÁ PARA ELA COMPRAR?

2) COMPLETE COM O ANTECESSOR E SUCESSOR DOS NÚMEROS:

	29	
--	----	--

	60	
--	----	--

	63	
--	----	--

	12	
--	----	--

	55	
--	----	--

	98	
--	----	--

	81	
--	----	--

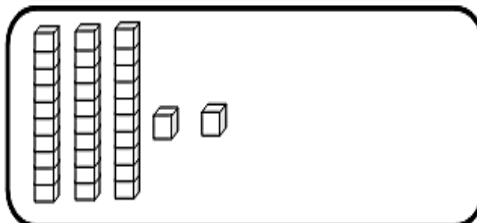
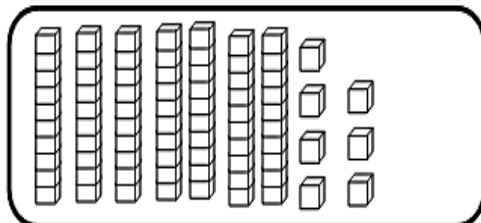
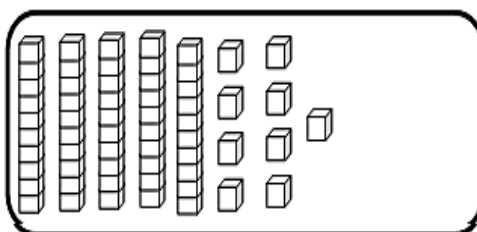
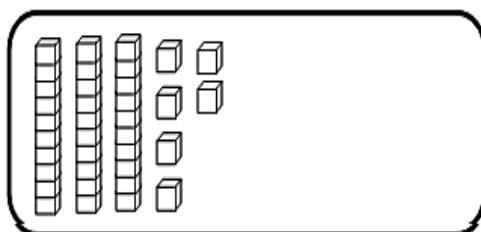
	86	
--	----	--

3) AGORA, RESPONDA:

QUEM É O MAIOR DELES?

QUEM É MENOR?

4) COLOQUE O VALOR REPRESENTADO PELO MATERIAL DOURADO.



5) RESOLVA AS OPERAÇÕES:

a) $145 + 34 =$

C	D	U

b) $346 + 122 =$

C	D	U

c) $554 - 32 =$

C	D	U