

AVALIAÇÃO DIAGNÓSTICA FOLCLORE

PARLENDA- O SAPO



ESCOLA: _____

NOME: _____

DATA: _____ PROFESSORA: _____

AVALIAÇÃO DIAGNÓSTICA DE LÍNGUA PORTUGUESA

PARLENDA: O SAPO



OLHA O SAPO DENTRO DO SACO
O SACO COM O SAPO DENTRO
O SAPO BATENDO PAPO
E O PAPO SOLTANDO VENTO.



ATIVIDADES

- LEIA ATENTAMENTE A PARLENDA E PINTE OS PARES DE RIMAS USANDO CORES DIFERENTES.
- COPIE NO QUADRO ABAIXO AS PALAVRAS QUE VOCÊ PINTOU.

- PINTE SOMENTE AS FIGURAS CUJO OS NOMES APARECEM NA PARLENDA.



➤ AGORA, RESPONDA:

QUAL É O TÍTULO DA PARLENDA?

ONDE ESTAVA O SAPO?

O QUE ELE ESTAVA FAZENDO?

QUANTAS VEZES APARECEM NA PARLENDA AS PALAVRAS:

SAPO

SACO

PAPO


OBSERVE A PALAVRA **SAPO** E RESPONDA:

QUANTAS SÍLABAS ELA TEM?

QUANTAS LETRAS?

QUANTAS SÃO VOGAIS?

QUANTAS SÃO CONSOANTES?



ESCOLA: _____

NOME: _____

DATA: _____ PROFESSORA: _____



AVALIAÇÃO DIAGNÓSTICA DE MATEMÁTICA

- ESCREVA NOS QUADRINHOS ABAIXO OS NÚMEROS QUE A PROFESSORA DITAR.

--	--	--	--

- QUEM SOU EU?

10

--

75

--

36

--

- COMPLETE COM O ANTECESSOR E O SUCESSOR DO NÚMERO EM DESTAQUE.

	54	
--	----	--

	72	
--	----	--

	29	
--	----	--

	60	
--	----	--

	63	
--	----	--

	12	
--	----	--

	55	
--	----	--

	98	
--	----	--

➤ COMPLETE COM OS SINAIS DE (>) MAIOR, (<) MENOR OU (=) IGUAL.

$45 \square 54$

$36 \square 30$

$18 \square 8$

$99 \square 99$

➤ COLOQUE O VALOR REPRESENTADO PELO MATERIAL DOURADO EM CADA QUADRINHO.



➤ CALCULE:

$18 + 4 =$

$74 + 21 =$

$36 - 5 =$

$63 - 12 =$

D	U

D	U

D	U

D	U