


FOLCLORE



ATIVIDADES MATEMÁTICAS



COLOQUE EM ORDEM CRESCENTE E DECRESCENTE.



CRESCENTE	DECRESCENTE
-----	-----
-----	-----
-----	-----
-----	-----
-----	-----
-----	-----

COMPLETE COM ANTECESSOR E SUCESSOR DO NÚMERO EM DESTAQUE.

	82	
--	----	--

	50	
--	----	--

	17	
--	----	--

	27	
--	----	--

	72	
--	----	--

	21	
--	----	--

	54	
--	----	--

	72	
--	----	--

	29	
--	----	--

	60	
--	----	--

	63	
--	----	--

	12	
--	----	--

	55	
--	----	--


	98	
--	----	--

	81	
--	----	--

	86	
--	----	--



COMPLETE COM OS SINAIS DE (>) MAIOR, (<) MENOR OU (=) IGUAL.



GRÁFICO

LENDAS FOLCLÓRICAS PREFERIDAS PELOS ALUNOS.



APÓS OBSERVAR O GRÁFICO RESPONDA:

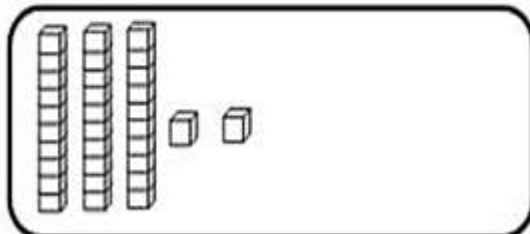
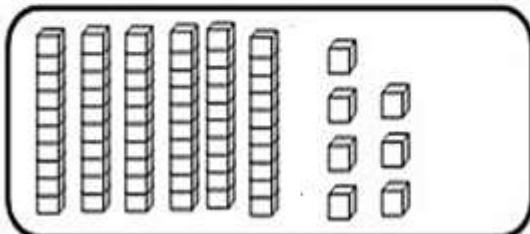
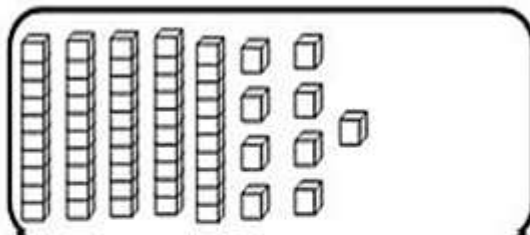
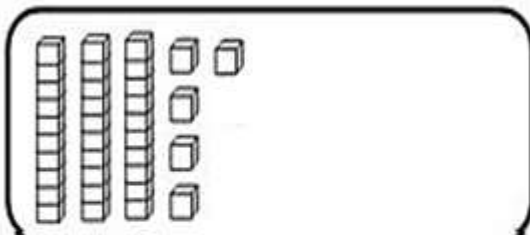

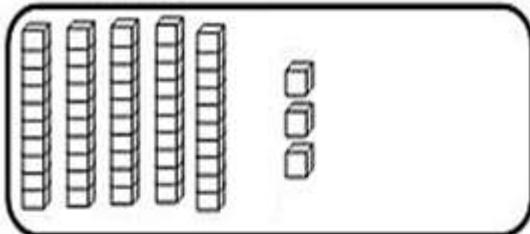
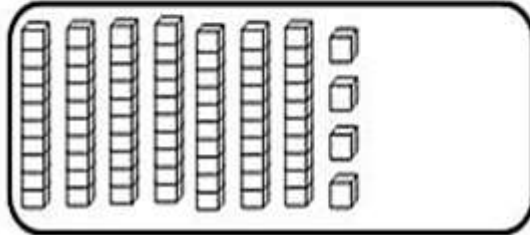
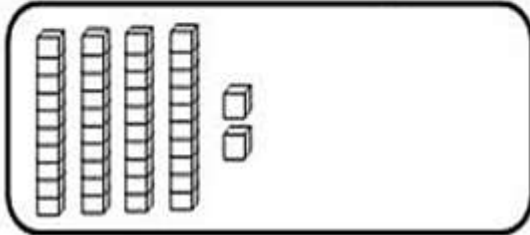
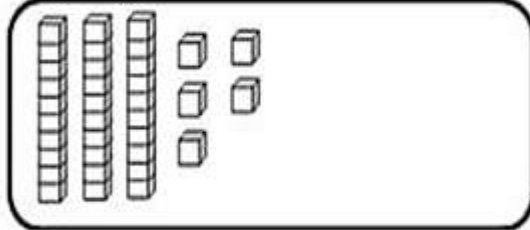
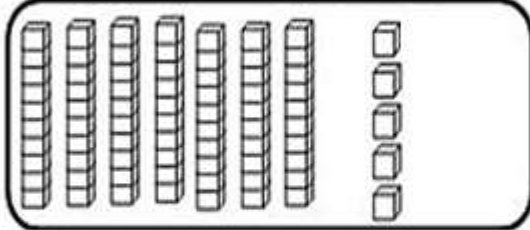
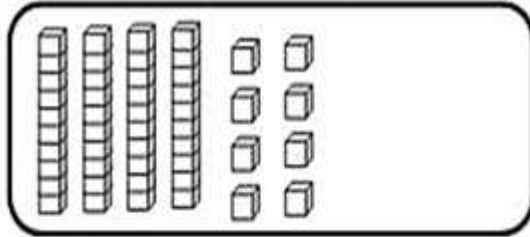
QUAL FOI A LENDA MAIS VOTADA?

QUAL FOI A LENDA MENOS VOTADA?

HOUVE ALGUMA LENDA COM A MESMA QUANTIDADE DE VOTOS? SE SIM, QUAL?

QUANTOS VOTOS O SACI TEVE A MAIS QUE O CURUPIRA?

COLOQUE O VALOR REPRESENTADO PELO MATERIAL DOURADO EM CADA QUADRINHO.



CALCULE:

$62 + 6 =$

D	U

$82 + 5 =$

D	U

$85 - 4 =$

D	U

$10 + 3 =$

D	U

$45 - 33 =$

D	U

$21 + 17 =$

D	U

$37 + 19 =$

D	U

$10 + 22 =$

D	U

$47 - 31 =$

D	U

$37 + 20 =$

D	U

$23 + 23 =$

D	U

$23 + 16 =$

D	U



TERMOS DE USO

Este material foi produzido pela professora Márcia Reis Baungartner, criadora do perfil

@professora.marciareis

A licença permite baixar e imprimir este material para uso pessoal.

PROIBIDO - Vender, compartilhar em grupos nas redes sociais, ou plagiar esse arquivo, bem como, os demais que já estão disponíveis.

Caso queira indicar esse arquivo para outras pessoas, mencionar a autoria, dando os devidos créditos para o instagram **@professora.marciareis**

DIREITOS AUTORAIS PROTEGIDOS PELA LEI 9610/98